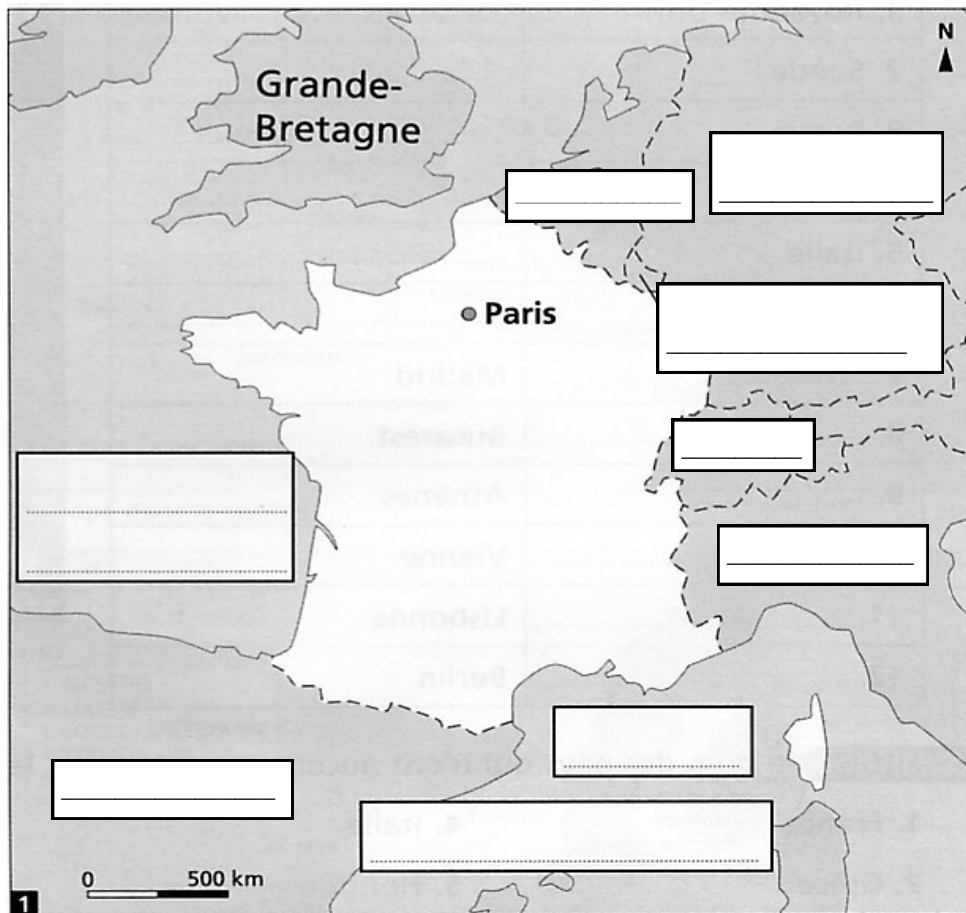


EVALUATION CM2 : GEOGRAPHIE
PERIODE 3

1) Complète la carte en indiquant le nom des pays limitrophes de la France et des mers ou océans qui la bordent.
Repasse les frontières terrestres en rouge et les frontières maritimes en bleu.



2) Questions :

La France est-elle plus proche du pôle Nord ou de l'équateur ?

.....

Quel est le climat de la France ?

.....

Dans quelle partie de l'Europe la France se trouve-t-elle ?

.....

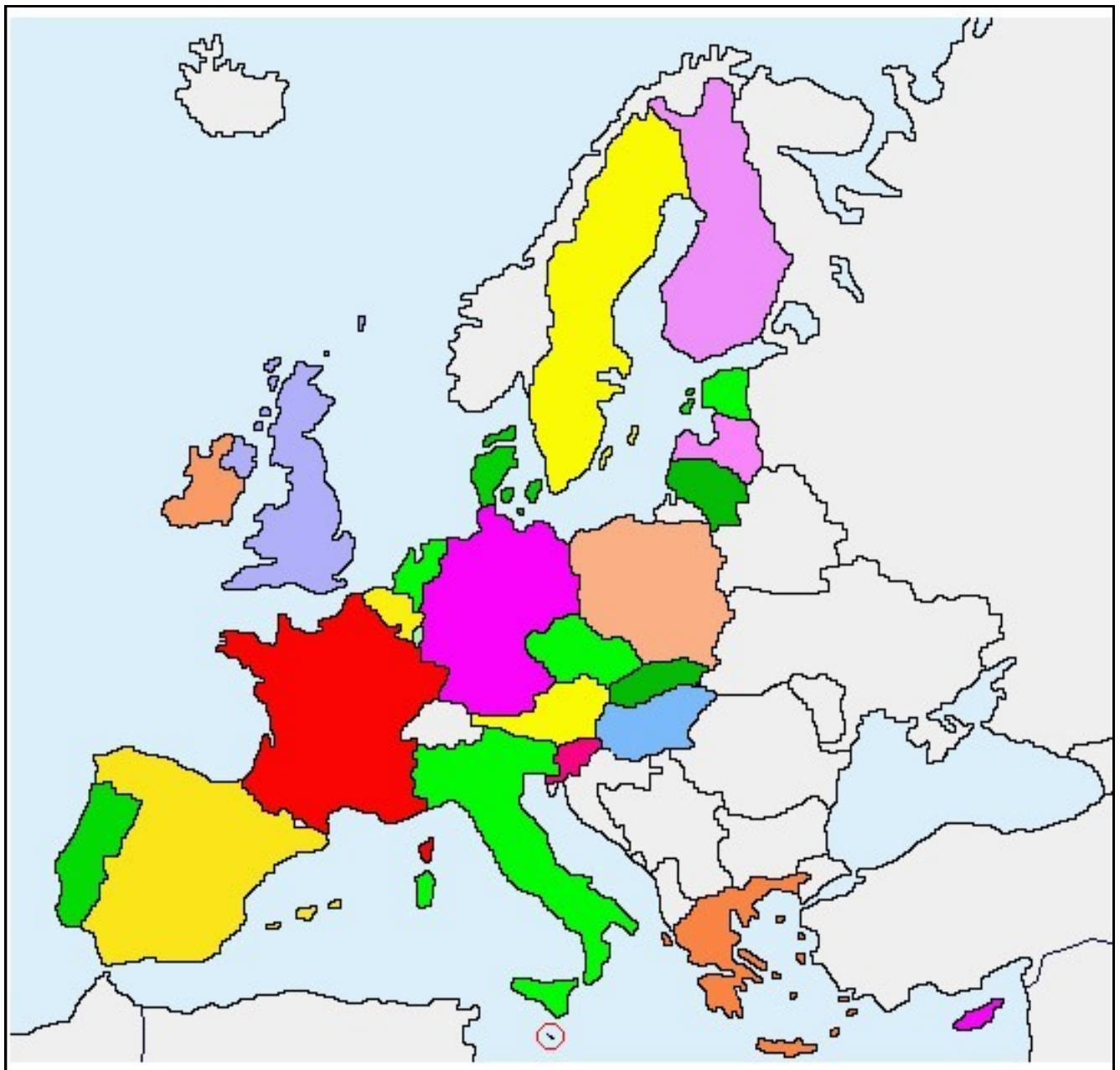
Quelles sont les 3 frontières naturelles de la France avec les pays limitrophes ?

.....

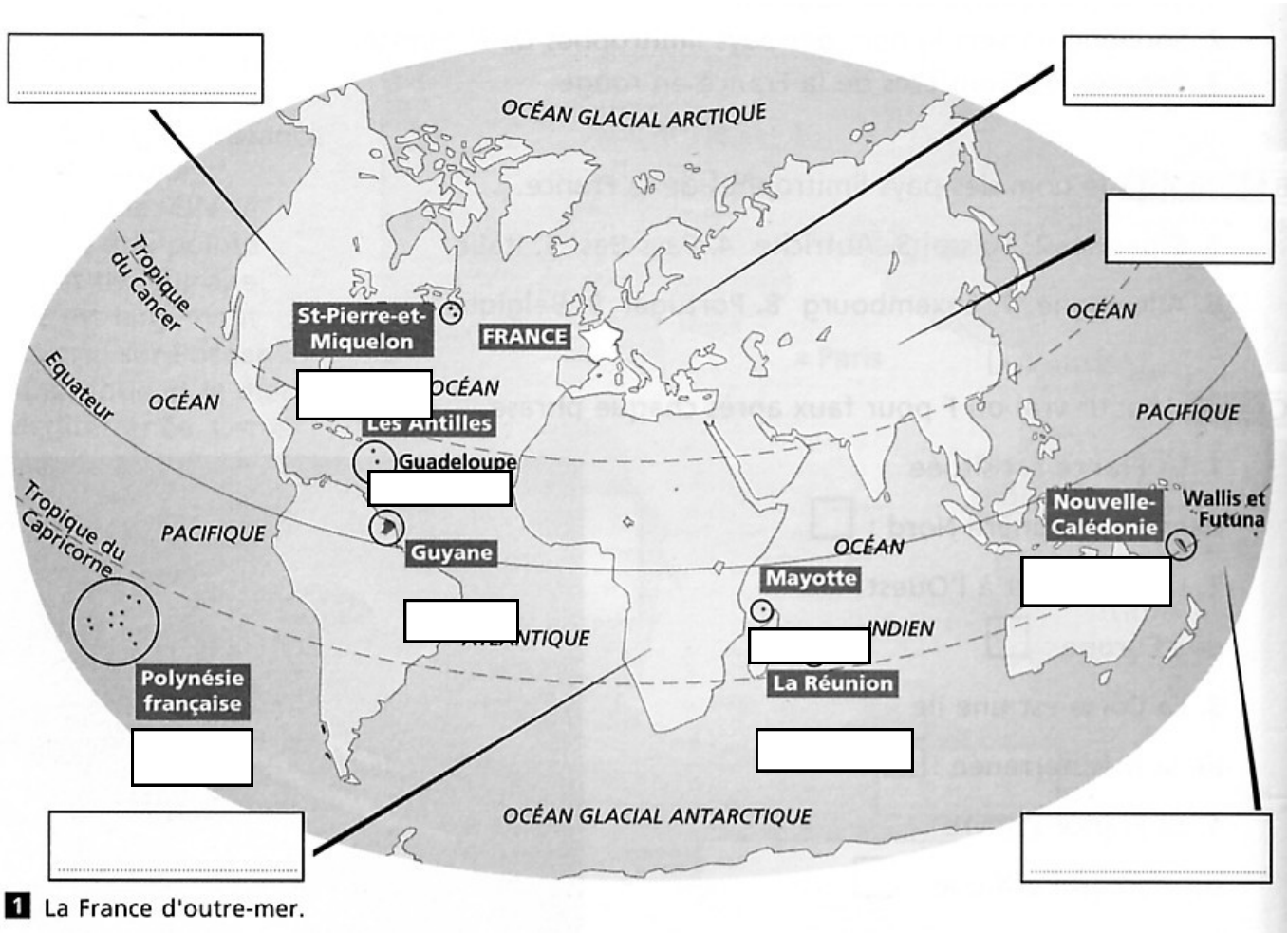
3) Complète le tableau ci-dessous :

Pays	Capitales
Royaume-Uni	
Russie	
Belgique	
Italie	
Pologne	
	Madrid
	Athènes
	Vienne
	Lisbonne
	Berlin

4) Place sur la carte le nom de 10 pays Européens que tu connais



5) LA FRANCE LOINTAINE



- 1) Complète la carte : continents et territoires français lointains (Les Antilles, Nouvelle Calédonie, Guyane, Mayotte, La Réunion, Polynésie, St Pierre et Miquelon.

- 2) Comment s'appelle la partie de la France qui se trouve en Europe ?

- 3) Quels sont les départements et régions d'outre-mer (DROM) ?

- 4) Quels sont les Communautés d'outre-mer (COM) ?

- 5) Quels sont les Pays d'Outre Mer (POM) ?

- 6) Combien d'habitants sont regroupés dans ces territoires francophones ?
